

TMA132 Fourieranalys F2/Kf2, 5 poäng

OBS! Ange namn, personnummer samt linje och inskrivningsår.

1. Bestäm det polynom $P(x)$ av högst andra graden som minimerar

$$\int_0^{\infty} (2e^{-x/2} - P(x))^2 e^{-x} dx.$$

2. Låt $f(x) = \eta(x-1) - \eta(x+1)$. Hitta med hjälp av Fouriertransformation eller Laplacetransformation lösningen till problemet

$$u_{xx} + 3u_x = u_t, \quad x \in (-\infty, \infty), \quad t \in (0, \infty), \quad u(x, 0) = f(x).$$

3. Med hjälp av konformavbildningar hitta en harmonisk funktion i området utanför två tangerande cirklar $|z| < 1$ och $|z - \frac{3}{2}| < \frac{1}{2}$, vilken har värdet 1 på den första cirkeln och värdet 2 på den andra cirkeln.

4. Funktionen $f(t)$ har Fouriertransformationen $\hat{f}(\omega)$ där

$$|\hat{f}(\omega)| = 0, \quad |\omega| < 2, \quad |\hat{f}(\omega)| = 1, \quad 2 \leq |\omega| < 5, \quad |\hat{f}(\omega)| = |\omega|^{-1}, \quad |\omega| \geq 5.$$

För $\alpha > 0$ definieras funktionen $g_\alpha(t)$ som $g_\alpha(t) = \frac{\sin \alpha t}{\pi t}$. Bestäm funktionen $h(\alpha) = \int_{-\infty}^{\infty} |(g_\alpha * f)(t)|^2 dt$.

5. Utveckla funktionen $f(\theta) = \cos(-\theta/2)$ i en komplex Fourierserie på intervallet $(-\pi, \pi)$. Vilka formler ger serien för $\theta = 0, \pi/2, -\pi/2, -\pi, \pi$? Vilka Fourierutvecklingar får man med integrering av serien?? Med derivering av serien?? Formulera motsvarande regler.

6. Lös problemet

$$\begin{cases} u_{xx} = u_t + u, & 0 < x < \pi, t > 0, \\ u(0, t) = 0, u'_x(\pi, t) = 1, & u(x, 0) = x \end{cases}$$

7. Formulera och bevisa Fouriers inversionssats (valfritt version)

8. (utan bevis)

- a) Definition av derivata av en distribution. Motivering. Exempel av derivering av distributioner som inte ges av kontinuerliga funktioner.
b) Villkoren för uniform och absolut konvergens av Fourierserier.

Varje uppgift kan ge max. 8 p. Skrivningen beräknas färdiggrättas 10. september.

G.Rozenblioum

GR

Tenta i Fourieranalys TMH132

2005-08-25

Lösningförslag.

1. Laguerrepolynomer $L_n(x)$ är ortogonala polynom i $L_2(0, \infty)$ med vikt e^{-x} . Därför är $P(x)$ en linjärkombination, ~~$P(x) = d_0 L_0(x) + d_1 L_1(x) + d_2 L_2(x)$~~

$$P(x) = d_0 L_0(x) + d_1 L_1(x) + d_2 L_2(x)$$

$$d_n = \int_0^{\infty} e^{-\frac{x}{2}} L_n(x) e^{-x} dx.$$

För att bestämma d_n , användes vi genererande funkt.

$$\sum L_n(x) z^n = \frac{e^{-xz/(1-z)}}{1-z}$$

Så har vi

$$\sum d_n z^n = \sum \int_0^{\infty} L_n(x) z^n e^{-\frac{x}{2}-x} dx$$

$$= \int_0^{\infty} \frac{e^{-\frac{xz}{1-z} - \frac{x}{2} - x}}{1-z} dx = \frac{1}{1-z} \cdot \frac{1}{1 + \frac{1}{2} + \frac{z}{2} - 1}$$

$$= \frac{2}{3} \left(1 - \frac{z}{3}\right)^{-1}. \text{ Utveckla i Taylorserie}$$

$$= \frac{2}{3} \left(1 + \frac{z}{3} + \frac{z^2}{9} + \dots\right) = \frac{2}{3} + \frac{2}{9}z + \frac{2}{27}z^2$$

$$P(x) = \frac{2}{3} L_0(x) + \frac{2}{9} L_1(x) + \frac{2}{27} L_2(x)$$

2. Vi gör F-transform i x-led:

$$-\xi^2 \hat{u}(\xi, t) + 3i\xi \hat{u}(\xi, t) = \hat{u}(\xi, t) \quad (1)$$

$$\hat{u}(\xi, 0) = \hat{f}(\xi)$$

Löser differentialekvationen (1):

$$\hat{u}(\xi, t) = \hat{f}(\xi) \cdot e^{-(\xi^2 - 3i\xi)t}$$

För att transformera den andra faktorn, gör vi kvadratkomplettering:

$$\xi^2 - 3i\xi = \left(\xi - \frac{3}{2}i\right)^2 + \frac{9}{4}$$

Vi hittar den inversa F-transform av

$$e^{-(\xi^2 - 3i\xi)t} = e^{-\frac{9}{4}t} e^{-(\xi - \frac{3}{2}i)^2 t}$$

Vi har:

$$e^{-\xi^2 t} \hat{f} \subset e^{-\frac{x^2}{4t}}$$

$$e^{-(\xi - \frac{3}{2}i)t} \subset e^{-\frac{x^2}{4t}} e^{-\frac{3}{2}x}$$

$$\hat{u}(\xi, t) = e^{-\frac{9}{4}t} \hat{f}(\xi) \cdot \left(e^{-\frac{x^2}{4t} - \frac{3}{2}x} \right)$$


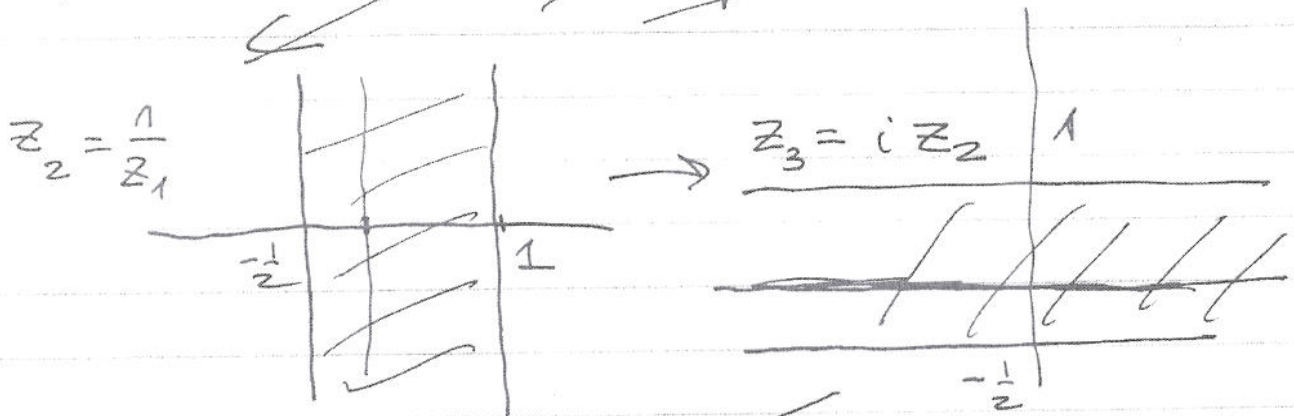
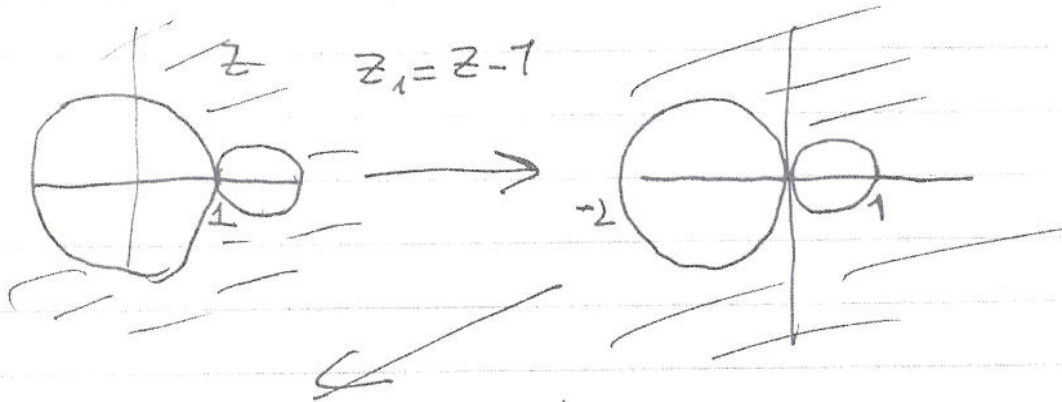
(regel 3, 5, 223
Folland)

Enligt regel 8, Folland

$$u(x, t) = e^{-\frac{9}{4}t} (2\pi)^{-1/2} \int e^{-\frac{x^2}{4t} - \frac{3}{2}x} f(s) e^{-\frac{(x-s)^2}{4t} - \frac{3}{2}(x-s)} ds$$

$$= -e^{-\frac{9}{4}t} (2\pi)^{-1/2} \int_{-1}^1 e^{-\frac{(x-s)^2}{4t} - \frac{3}{2}(x-s)} ds$$

3. Vi konstruerar stegvis en konformabbildning av vårt område till det övre halvplanet



$$w = e^{z_4}$$

övre halvplanet

$$w(z) = e^{\frac{2\pi}{3} \left(\frac{i}{z-1} + \frac{1}{2} \right)}$$

$$v(w) = 1$$

$$v(w) = 2$$

Vi söker en harmoniska funktion $v(w)$ i halvplanet som är lika med 1 för w reellt, $w < 0$, och lika med 2 för w reellt, $w > 0$, med hjälp av \arg : $v(w) = 2 - \frac{1}{\pi} \arg w$

$$u(z) = v(w(z)) = 2 - \frac{1}{\pi} \arg \left(e^{\frac{2\pi}{3} \left(\frac{i}{z-1} + \frac{1}{2} \right)} \right)$$

4. Vi har $\int_{-\infty}^{\infty} |(g_{\alpha} * f)(t)|^2 dt$

$$= \frac{1}{2\pi} \int_{-\infty}^{\infty} |(g_{\alpha} * f)(\omega)|^2 d\omega$$

enligt Parseval

$$= \frac{1}{2\pi} \int_{-\infty}^{\infty} |\hat{g}_{\alpha}(\omega) \cdot \hat{f}(\omega)|^2 d\omega$$

$$\hat{g}_{\alpha}(\omega) = \chi_{\alpha}(\omega) = \begin{cases} 1, & |\omega| < \alpha \\ 0, & |\omega| > \alpha \end{cases}$$

Därför är vår integral lika med

$$I = \int_{-\alpha}^{\alpha} |\hat{f}(\omega)|^2 d\omega$$

Om $\alpha \leq 2$, så $|f(\omega)| = 0$, $|\omega| < \alpha$, integralen = 0.

Om $2 < \alpha \leq 5$, $I = \int_2^{\alpha} d\omega = \alpha - 2$.

Om $\alpha > 5$,

$$I = \int_2^5 d\omega + \int_5^{\alpha} \omega^{-2} d\omega = 3 + (5^{-1} - \alpha^{-1})$$

5. Funktionen $f(\theta) = \cos(-\theta/2)$ är periodisk på $(-\pi, \pi)$, $\cos \frac{\pi}{2} = \cos(-\frac{\pi}{2}) = 0$,

$$c_0 = \frac{1}{2\pi} \int_{-\pi}^{\pi} \cos(\theta/2) d\theta = \frac{2}{\pi}, n=0$$

$$c_n = \frac{1}{2\pi} \int_{-\pi}^{\pi} (e^{i\theta/2} + e^{-i\theta/2}) e^{-in\theta} d\theta$$

$$= \frac{1}{2\pi} \left[\frac{e^{-i(n+\frac{1}{2})\theta}}{-i(n+\frac{1}{2})} + \frac{e^{-i(n-\frac{1}{2})\theta}}{-i(n-\frac{1}{2})} \right] \Big|_{-\pi}^{\pi}$$

$$= \frac{1}{2\pi} \cdot \frac{1}{-i} \left(e^{-i\frac{\pi}{2}} - e^{i\frac{\pi}{2}} \right) \left(\frac{1}{n+\frac{1}{2}} + \frac{1}{n-\frac{1}{2}} \right)$$

$$= \frac{1}{2\pi} \cdot \frac{1}{-i(n+\frac{1}{2})} (-1)^n (e^{-i\frac{\pi}{2}} - e^{i\frac{\pi}{2}}) + \frac{1}{2\pi} \cdot \frac{1}{-i(n-\frac{1}{2})} (-1)^n (e^{-i\frac{\pi}{2}} - e^{i\frac{\pi}{2}})$$

$$+ \frac{1}{2\pi} \cdot \frac{1}{-i(n-\frac{1}{2})} (-1)^n (e^{i\frac{\pi}{2}} - e^{-i\frac{\pi}{2}})$$

$$= \frac{1}{\pi} (-1)^n \left(\frac{1}{n+\frac{1}{2}} - \frac{1}{n-\frac{1}{2}} \right) = \frac{1}{\pi} \frac{(-1)^n}{n^2 - \frac{1}{4}}$$

$$f(\theta) = \frac{2}{\pi} + \frac{1}{\pi} \sum_{n \neq 0} \frac{(-1)^n}{n^2 - \frac{1}{4}} e^{in\theta}$$

Funct. $f(\theta)$ är kontinuerligt, därför är summan lika med $f(\theta)$ för alla θ .

Att derivera är möjligt, eftersom f' är styckenvis kontinuerligt.

$$f'(\theta) = \frac{1}{\pi} \sum_{n \neq 0} \frac{(-1)^n \cdot (in)}{n^2 - \frac{1}{4}}$$

För att integrera;

$$F(x) = \int_0^x f(\theta) d\theta = 2 \sin \frac{x}{2} ; \int_{-\pi}^{\pi} F(x) dx = 0.$$

$$F(x) = c_0 x + \sum_{n \neq 0} \frac{c_n}{in} e^{inx}$$

$$= \frac{2}{\pi} x + \sum_{n \neq 0} \frac{(-1)^n}{in(n^2 - \frac{1}{4})}$$

$T_n(0) = 0$, eftersom $V(x,0) = 0$.

$$T_n' = -\left(1 + \left(n + \frac{1}{2}\right)^2\right) T_n - d_n.$$

Löser ekvationen och hittar

$$T_n(t) = -d_n \left(1 + \left(n + \frac{1}{2}\right)^2\right)^{-1} \left(1 - e^{-\left(1 + \left(n + \frac{1}{2}\right)^2\right)t}\right).$$

Svar: $u(x,t) = X \frac{\sqrt{2}}{\sqrt{\pi}} \sum_{n=0}^{\infty} \frac{(-1)^{n+1}}{\left(n + \frac{1}{2}\right)^2} \left(1 + \left(n + \frac{1}{2}\right)^2\right)^{-1} \left(1 - e^{-\left(1 + \left(n + \frac{1}{2}\right)^2\right)t}\right) \times \sin\left(n + \frac{1}{2}\right)x$